

МАТЕМАТИКА 2 КЛАСС

1. Петя раскрашивает клетки по определённому правилу. Сколько клеток он раскрасит на четвёртом рисунке?



Отметь верный ответ

20

13

10

8

2. Ученики записали величины в порядке убывания: 10 дм, 10 см, 12 см. и получили разные ответы.

Отметь верный ответ

10 дм, 10 см, 12 см

10 дм, 12 см, 10 см

12 см, 10 см, 10 дм

12 см, 10 дм, 10 см

3. Прочитай текст и заполни таблицу числовыми данными.

Маше 10 лет. Рост Маши 125 см, а рост Коли 130 см. Маша весит 30 кг, Коля столько же. Коле 9 лет.

Имя	Возраст	Вес	Рост
Маша			
Коля			

4. Найди разность: $91 - 83$

Запиши ответ.

Ответ: _____

5. Чему равен делитель в выражении? Отметь верный ответ

$24 : 8$

$24 : 8$

24

8

3

6. У Лены есть такие деньги. Может ли она купить две ручки по 40 рублей каждая?

Ответ: _____



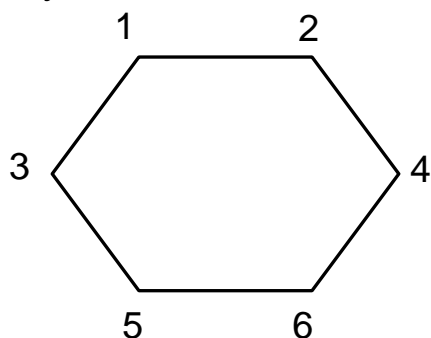
7. В конкурсе рисунков «Зоопарк на асфальте» участвуют 70 учеников: 15 девочек, остальные – мальчики. На сколько больше мальчиков участвуют в конкурсе рисунков? Запиши решение и ответ.

Решение:



Ответ: _____

8. На этом рисунке Лиза соединила точки 3 и 6. Какие фигуры она получила?




Отметь все правильные ответы

- треугольник
- четырехугольник
- пятиугольник
- шестиугольник
- семиугольник

9. Рассмотрите отрезок.



Начерти отрезок такой же длины.



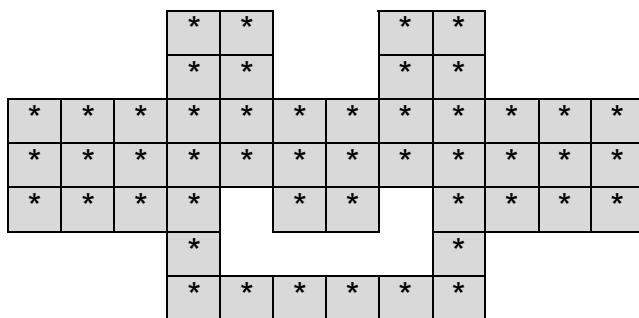
10. Числа: 55, 56, 45, 53, 5 имеют одно общее свойство. Какое это свойство? Отметь верный ответ .

- в записи есть цифра 5
- запись начинается с цифры 5
- двузначные
- нечетные

11. Эти замки нужно разложить в три коробки поровну. Сколько замков нужно положить в одну коробку?

Ответ: _____

12. Мозаика сложена из деталей разной формы. Деталь какой формы выпала из центра мозаики?



Отметь ответ .

- | | | | |
|---|---|---|---|
| * | * | * | * |
| * | * | * | * |
- | | | |
|---|---|---|
| * | | * |
| * | * | * |
- | | |
|---|---|
| * | * |
| * | * |
| * | |
| * | |
- | | | | |
|---|---|---|---|
| * | * | * | * |
| * | | | * |

13. Участники лотереи получили билеты с номерами от 01 до 40. Выигрышными оказались двузначные номера билетов, имеющие в записи цифру 4. Запиши номера всех выигрышных билетов.

Ответ: _____

